



**İLKOKULLARDA
UZAKTAN EĞİTİM
SÜRECİNDE
KAZANIM
KAVRAMA
ÇALIŞMASI
GENEL
DEĞERLENDİRME**



#sakaryacevrimici
#hayatevesiğar

**BU KİTAPÇIKTA;
TÜRKÇE 10 SORU
MATEMATİK 10 SORU
HAYAT BİLGİSİ 10 SORU
İNGİLİZCE 10 SORU
YER ALMAKTADIR.**

Bu çalışmada yer alan

TOKİ İlkokulu,

Atatürk İlkokulu,

Selçukbey İlkokulu,

Mehmet Zorlu İlkokulu

İdareci ve öğretmenlerine teşekkürler...

SAKARYA MEM

2020

2.SINIF KONU KAZANIM KAVRAMA TESTİ

TÜRKÇE



MİLLET MALI

"Soğuk, karlı bir hava, her yer bembeyaz...

Bu beyazlığı, yalnız önümüzde giden karartılar bozuyor. Bunlar kağnılarıyla, ordumuza cephane taşıyan köylü kadınlar. Biraz sonra onlara yetişip, selamlaştık. Biz kalın paltolarımız altında titrerken, çok yaşlı bir nine, yorganını kağnının üstüne örtmüştü, çıplak ayakları ile karları çiğniyordu. Arkasındaki peştamalin içinde de kendisi gibi çıplak bir yavru vardı. Onların halini görünce içim sızladı.

-Nineciğim, dedim. Üşümez misin sen? Bak torunun nerede ise donacak. Arabaya serdiğin yorganını, onun üzerine örtsene...

Nine kağnıya doğru koştu.

-Kar yağıyor oğlum, dedi. Bunun altında "MİLLET MALI" var. Islanmasın. Sonra yorganın uçlarını, çeke çeke, cephaneyi iyice örttü. Torunundan, oğlundan, kendisinden çok ordumuzun cephanesini düşünüyordu.

İşte Türk Milleti, Kurtuluş Savaşı'nı, böyle FEDAKÂRLIKLARLA kazandı."

NOT (İlk 2 soruyu yukarıdaki metne göre yanıtlayınız.)

1.Nine torununun üstünü örtmek yerine neden cephaneyi örtüyor?

A) Güneşten korumak için B) Kardan korumak için C) Tozdan korumak için

2.Kurtuluş Savaşı nasıl kazanılmamıştır?

A) Yardımlaşma ile B) Fedakârlıklar ile C) Kıskançlıklar ile.



Aşçı



Ressam



Çiftçi



Bahçıvan

Doğa, insan ve eşya resimlerini çizen kişi.

Yemek hazırlamayı meslek edinen kişi.

Parklardaki bitkilerin büyümesi ve gelişmesi ile ilgilenen kişi

3.Yukarıdaki mesleklerin tanımı altta verilmiştir. Eşleştirme yapıldığında aşağıdaki mesleklerden hangisi dışarıda kalır?

A) Aşçı

B) Çiftçi

C) Bahçıvan

1 Ekmeği mutfağa koydu.

2 Evde ekmek bitmişti.

3 Fırından üç tane ekmek aldı.

4 Babası , Kemal'e para verdi.

5 Kemal karşıdaki fırına gitti.

4.Yanda numaralandırılmış ve karışık olarak verilen cümleleri oluş sırasına göre dizersek hangi şıktaki gibi olur?

A) 3-4-1-5-2

B) 2-4-1-3-5

C) 2-4-5-3-1



5.Yukarıda sayılar sayma sırasına göre verilmiştir. Aşağıda ise hangi şıkta sözlük sırasına göre dizilmiştir? İşaretleyiniz.

A)



B)



C)

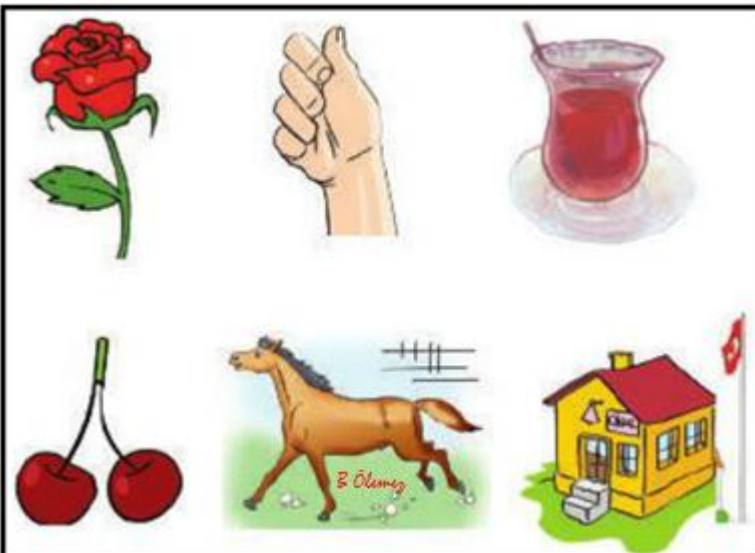


HAFİF
ACI
SAĞ
ÖN
ZOR



6-Yan tarafta verilen kelimelerin zıt anlamlılarını karşlarına yazarsak sarı sütunda yazan kelime aşağıdakilerden hangi şıkta yer alır?

- A) KATSA
- B) SAKAT
- C) ATSAK



7-Yanda eş sesli (sesteş) kelimeler verilmiştir. Hangi şıkta verilen kelimeler ikilisi eş sesli değildir?

- A) Kiraz-Okul
- B) At-EI
- C) Çay-Gül

Babam bana bisiklet aldı.	Ne zaman?
Yağmur yağdığı için okula gidemedim.	Kim?
Manavdan elma ile armut aldık.	Nasıl?
Akşam bize misafir geldi.	Ne?
	Niçin?

8.Yanda verilen cümlelerde renkli ile yazılan kelimelerin soruları karşı sütunda yer almaktadır. Eşleştirme yapıldığında hangi soru kelimesi açıkta kalır?

- A) Nasıl?
- B) Kim?
- C) Niçin?

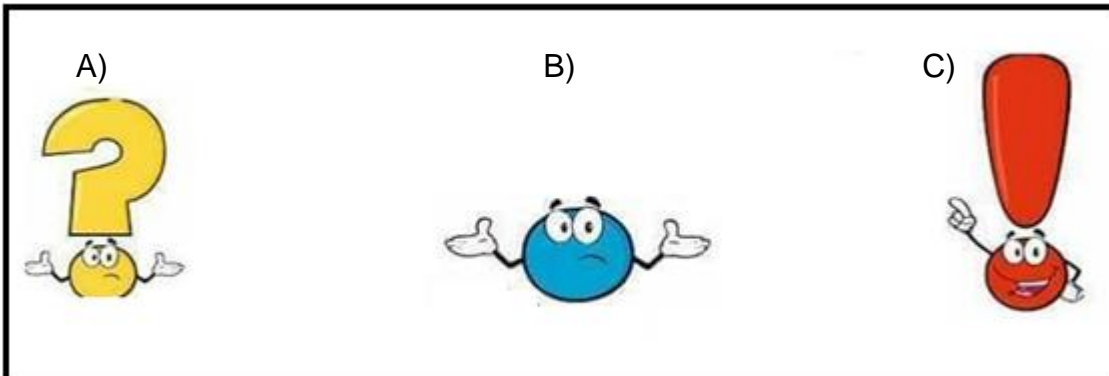
Sevinç, kıvanç, acı, korku, şaşma gibi duyguları anlatan cümle veya ibarelerin sonuna konur.

Soru eki veya sözü içeren cümle sonuna konur.

Birbiri ardınca sıralanan eş görevli kelime ve kelime gruplarının arasına konur.

Özel adlara, kısaltmalara ve sayılara getirilen ekleri ayırmak için kullanılır.

9.Yan tarafta “**Noktalama İşaretlerinin Kullanıldığı Yerler**” verilmiştir. Buna göre aşağıdaki noktalama işaretlerinin hangisinden bahsedilmemiştir?



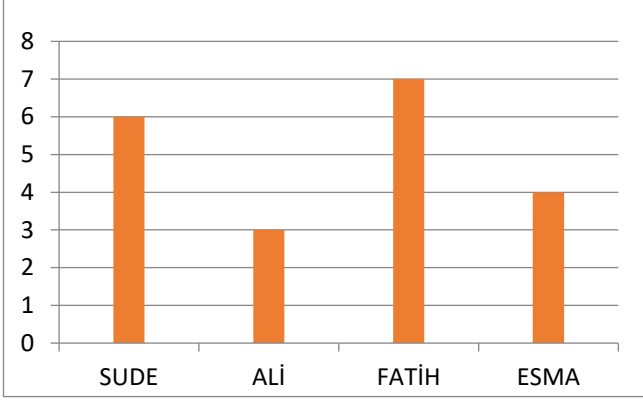
Okula geç kaldığım için,	havuza giremedi.
Yol buzlandığı için,	ödevlerimi yapamadım.
Defne yüzemediği için,	ilk dersi kaçırdım.
Elektrikler gittiği için,	araba kaydı.

10.Yukarıda verilen sebep-sonuç cümleleri karışık olarak verilmiştir. Doğru eşleştirme yapılırsa sonuç cümlelerinin boyanmış hali hangi şıktadır?



2.SINIF KONU KAZANIM KAVRAMA TESTİ

MATEMATİK



Yandaki grafik dört arkadaşın okuduğu kitap sayılarını göstermektedir. Grafiğe göre; 1. ve 2.soruları cevaplayalım.



1. Bir ayda en fazla kitap okuyan kişi, en az kitap okuyan kişiden kaç kitap fazla okumuştur?

A) 4 kitap

B) 3 kitap

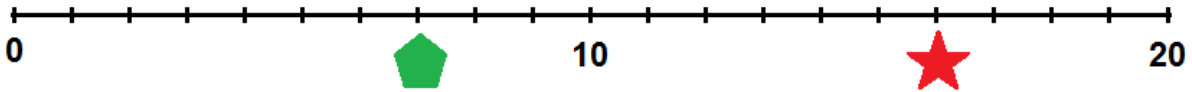
C) 1 kitap

2. 4 arkadaş toplam kaç kitap okumuştur?

A) 17 kitap

B) 20 kitap

C) 23 kitap



3. Yukarıdaki sayı doğrusunda verilen şekillerin yerine gelen sayılarla ilgili toplamalardan hangisi doğrudur?

A) $\text{Yeşil Şekil} + \text{Kırmızı Yıldız} = 23$

B) $\text{Yeşil Şekil} + \text{Kırmızı Yıldız} = 24$

C) $\text{Yeşil Şekil} + \text{Kırmızı Yıldız} = 25$



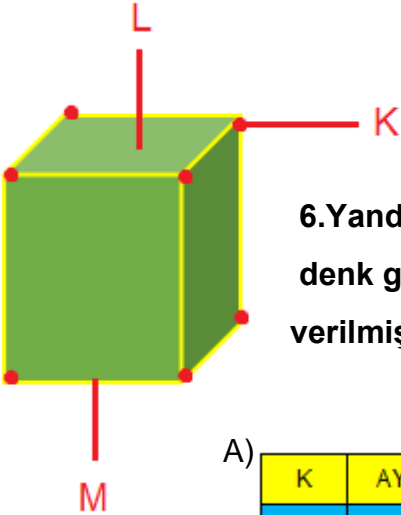
Yan tarafta Kara Ailesi'nin bireyleri görülmektedir. Aile bireylerinden Ali ve Ayşe'nin kiloları verilmiştir. Verilen bilgilerden yola çıkarak 4. ve 5.soruları cevaplayınız.

4. Annenin kilosu Ali'nin kilosundan 27 kg fazla ve babanın kilosu ise, Ali'nin kilosundan 34 kg fazla ise, Anne ve babanın kiloları toplamı kaç olur?

- A) 76 kg B) 83 kg C) 99 kg

5. Ninenin kilosu Ayşe'nin kilosundan 21 kg fazla ve dedenin kilosu ise, Ayşe'nin kilosundan 25 kg fazla ise, nine ve dedenin kiloları toplamı kaç olur?

- A) 98 kg B) 92 kg C) 84 kg



6. Yanda verilen geometrik şeklin K-L-M harflerine denk gelen bilgilerin eşleştirmesi hangi şıkta doğru verilmiştir?

A)

K	AYRIT
L	KÖŞE
M	YÜZEY

B)



K	KÖŞE
L	AYRIT
M	YÜZEY

C)

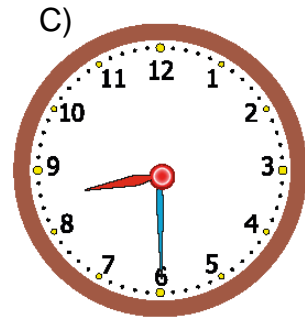
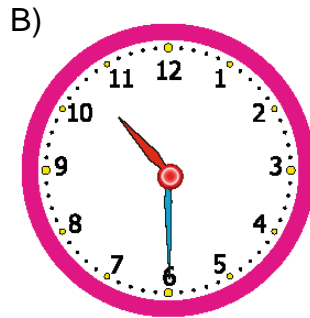
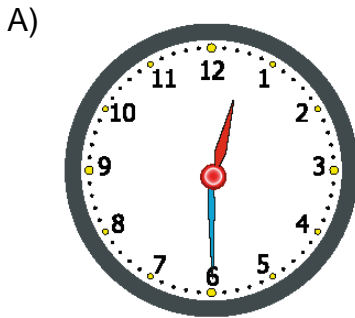
K	KÖŞE
L	YÜZEY
M	AYRIT



7.Yukarıda üst üste dizilen legoların, tepeden görünümü aşağıda hangi şıkta verilmiştir?



8.Komşumuz bize geldiğinde saat yukarıdaki gibiydi.3 saat oturduktan sonra gittiler. Gittiklerinde saat aşağıdakilerden hangisini gösterir?





Yukarıda bir mağazadaki ürünlerin satış fiyatlarıdır. Aşağıda verilen 9. soruyu bu bilgilere göre cevaplayınız.

9. En pahalı ve en ucuz üründen alan babam satıcıya bir tane 50 TL, iki tane 20 TL verdi. Babam geriye kaç TL alır?

- A) 4 TL B) 14 TL C) 27 TL

$$\begin{array}{r} 21 \overline{) 3} \\ \underline{0} \\ 3 \end{array}$$

$$\begin{array}{r} \star \\ \times 5 \\ \hline \square \end{array}$$

$$\begin{array}{r} \square \\ - \triangle \\ \hline 21 \end{array}$$

10. Yandaki işlemlerin sonucuna göre;

$$\square + \star + \triangle = ?$$

kaçtır?

- A) 49 B) 35 C) 56

2.SINIF KONU KAZANIM KAVRAMA TESTİ HAYAT BİLGİSİ

MEVSİMLER			
İLKBAHAR	YAZ	SONBAHAR	KIŞ
MART	HAZİRAN	EYLÜL	④
NİSAN	②	EKİM	OCAK
①	AĞUSTOS	③	ŞUBAT

1.Yan tarafta mevsimler ve ayları verilmiştir. Bazı aylar ise eksiktir. Yerlerine rakamlar konmuştur. Rakamların karşısına uygun olarak gelen şıkkı işaretleyiniz.

A)

①	TEMMUZ
②	ARALIK
③	KASIM
④	MAYIS

B)

①	KASIM
②	MAYIS
③	ARALIK
④	TEMMUZ

C)

①	MAYIS
②	TEMMUZ
③	KASIM
④	ARALIK

Körebe
Halat çekme
İstöp
Birdir bir
Sakambaç

2.Yan tarafta geleneksel oyunlarımız isimleri ve görselleri verilmiştir. Eşleştirme yaptığımızda hangi oyun dışarıda kalır?

- A) İstöp
B) Körebe
C) Saklambaç



3. Bayrağımız için söylenen ifadelerden hepsinin doğru olduğu şıkkı işaretleyelim.



Benim adım Metin. Akrabalarımı çok seviyorum. Akrabalarımın farklı farklı şekillerde hitap ediyorum. Örneğin; annemin babasına1....., annemin kız kardeşine2....., annemin erkek kardeşine3..... derim.

Babamın annesine4....., babamın erkek kardeşine5....., babamın kız kardeşine6..... diyorum.

4. Yandaki metinde akrabalarımız tanıtılmaktadır. Boşluklara gelecek rakamlara karşılık gelen akrabalık kavramlarının eşleştirilmesi hangi şıkta yer almaktadır?

A)

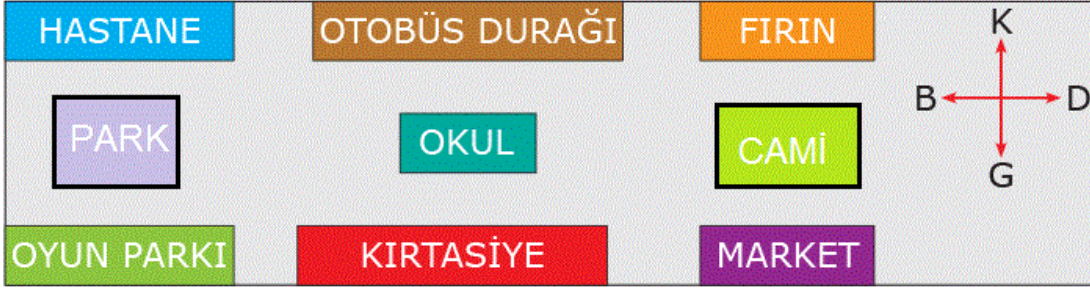
1	BABAANNE
2	TEYZE
3	AMCA
4	DEDE
5	DAYI
6	HALA

B)

1	DEDE
2	TEYZE
3	DAYI
4	BABAANNE
5	AMCA
6	HALA

C)

1	BABAANNE
2	HALA
3	AMCA
4	DEDE
5	TEYZE
6	HALA



5.Yukarıdaki haritaya göre yandaki bilgilerden kaç tanesi doğrudur?


- Fırın camiinin kuzeyindedir.
- Okul camiinin batısındadır.
- Otobüs durağı hastanenin güneyindedir.
- Hastane parkın doğusundadır.


- A) 2
- B) 3
- C) 1


	Adı	Kemal
	Babasının Adı	Ali Rıza
	Annesini Adı	Makbule
	Doğum Yeri	Selanik
	Doğum Tarihi	1881


6.Yan taraftaki nüfus cüzdanında "M. Kemal Atatürk" ile ilgili bilgilerden hangisi yanlış verilmiştir?

- A) Babasının Adı
- B) Annesinin Adı
- C) Doğum Yeri


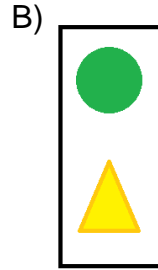

 Temizlik malzemelerini gereğinden fazla kullanmalıyız.


 Lüzumsuz ise lambaları söndürmeliyiz.


 Ellerimiz temiz olsun diye çok su kullanmalıyız.


 Hava sıcak iken kaloriferi kapatmalıyız.

7. Yan tarafta verilen bilgilerden hangileri tasarruf ile ilgili doğru bilgidir?



OYA
 Oyun parklarındaki araç ve gereçleri sıra ile kullanmamıza gerek yoktur.

AYŞE
 Oyun araç gereçlerini, dikkatsiz kullanmak kazalara sebep olabilir


ALİ
 Güvenliğimiz için tehlikeli olabilecek davranışlardan kaçınmalıyız.

8. Yukarıdaki çocukların ifadelerinden yanlış olanı işaretleyiniz.

A) Oya

B) Ayşe

C) Ali



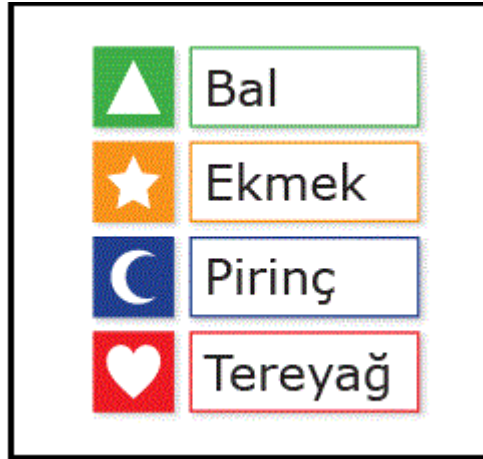
Yeryüzündeki sular güneşin etkisi ile buharlaşır.Buharlaşan sular bulutları oluşturur.Bulutlar soğuk havaya rastlayınca yağmur,dolu,kar şeklinde yeryüzününe düşerler.

9.Yukarıda görselde verilen ve metinde anlatılan bilgi doğrultusunda aşağıdaki bilginin hangisi doğrudur?



A) Hava Dolanımı

B) Toprak Dolanımı

C) Su Dolanımı



10.Yukarıda verilen gıdalardan hangileri "hayvansal ürün"dür?



2.SINIF KONU KAZANIM KAVRAMA TESTİ

İNGİLİZCE

1.-----, please! Görseli ifade eden cümle hangi seçenekte verilmiştir?



- A) Sit down
- B) Stand up
- C) Turn left

2.Aşağıdaki görsele uygun olan kelime hangisidir?



A) cut

B) stick

C) write

3.Where is the dog?

_It's ----- the table.



A)on

B) under

C) in

4. Aşağıdaki görsele göre doğru seçeneği işaretleyiniz.



A) Turn left.

B) Turn right.

B) Close the door.



5. Görselin İngilizce karşılığını işaretleyiniz.

A) Stick the paper.

B) Cut the paper.

C) Color the paper.

6. Aşağıdaki görselde hangi durum ifade edilmektedir?



A) jump

B) sing

C) swim



7. Let's _____ rope. Boşluğa ne gelmelidir?

- A) slide
- B) swing
- C) skip

What's
your
name?




8.Yandaki görselde bulunan soruya yanlış verilen cevabı işaretleyiniz.

- A) My name is Defne.
- B) I'm Mehmet.
- C) I'm fine.

9.Boşluğu resme göre tamamlayınız.

Look at
my.....

- A) knee
- B) arm
- C) foot



10. Konuşma balonuna göre doğru olan seçeneği işaretleyiniz



I like



but I don't like



A) watermelon / strawberry

B) melon / peach

C) cherry / grapes

TEST BİTTİ KONTROL EDİNİZ