



İLKOKULLARDA
UZAKTAN EĞİTİM
SÜRECİNDE
KAZANIM
KAVRAMA
ÇALIŞMASI
GENEL
DEĞERLENDİRME



#sakaryacevrimici
#hayatevesiğar

BU KİTAPÇIKTA

TÜRKÇE 15 SORU

MATEMATİK 15 SORU

HAYAT BİLGİSİ 15 SORU

FEN BİLİMLERİ 15 SORU

İNGİLİZCE 10 SORU

YER ALMAKTADIR

Bu çalışmada yer alan Toki İlkokulu, Atatürk İlkokulu, Selçukbey İlkokulu,
Mehmet Zorlu İlkokulu idareci ve öğretmenlerine teşekkürler...

SAKARYA MEM

2020

3.SINIF KONU KAZANIM KAVRAMA TESTİ

TÜRKÇE

.....

Ceren o akşam geç saatlere kadar televizyon izlemişti. Sabah okula gitmek için erken kalkması gerekiyordu. Saat çaldı, annesi odasına geldi ama Ceren bir türlü kalkamıyordu. Sonunda kalktı ama geç kalmıştı. Kahvaltı edecek vakti kalmamıştı. Hemen üstünü giyip evden çıktı. İlk ders matematikti. Ceren derse yetişti ama öğretmenin anlattıklarından hiçbir şey anlamadı.

1,2 ve 3. soruları yukarıdaki metne göre yanıtlayınız.

1) Metinde anlatılan asıl sorun aşağıdakilerden hangisidir?

- A) Ceren 'in kahvaltı etmemesi
- B) Ceren'in matematik derslerinden bir şey anlamaması
- C) Ceren'in geç saatlere kadar televizyon izlemesi

2) Ceren'in öğretmenin anlattıklarından bir şey anlamamasının sebebi nedir?

- A) Uykusuz ve aç olması
- B) Matematiği sevmemesi
- C) Derse hazırlıksız gelmesi

3) Yukarıdaki metne en uygun başlık aşağıdakilerden hangisidir?




- A) Matematik Dersi
- B) Ceren'in Kahvaltısı
- C) Ceren'in Hatası

Öğretmen “ Olup bitenleri kısaca yaz. “ dedi.

4) Yukarıdaki cümlede kullanılan sözcüklerden hangisinin eş seslisi aşağıdakilerden hangisinde kullanılmıştır?

- A) Ağaca çıkarken dal kırıldı.
- B) Karınca bütün yaz, saz çaldı.
- C) Dolu yağışları çiçekleri döktü.

5) Aşağıdakilerden hangisi neden- sonuç ilişkisi kurmuştur?

- A)  Güneş, Dünya'nın yaklaşık yüz katı büyüklüktedir.
- B)  Dünya kendi çevresinde döndüğünden dolayı gece ve gündüz oluşur.
- C)  Ay, Dünya'dan daha küçüktür.

6) Aşağıdaki cümlelerden hangisinde yazım ve noktalama yanlışlığı yoktur?

- A) Ayşe 14. Nisan. 2011' de doğdu.
- B) Annem kırkbir yaşında
- C) Bugün Güllerle sinemaya gideceğiz.

7) "Ormanda yabani hayvanlar var." cümlesinde geçen "yabani" kelimesinin zıt anlamlısı hangisidir?

A) orman

B) evcil

C) hayvan

Eyvah ()
Yemekler yere döküldü ()
Annem bana kızarmı ()

8) Yukarıdaki karşılıklı konuşmada boşluklara hangi noktalama işaretleri gelmelidir?

A) (,) (.) (?)

B) (!) (,) (?)

C) (!) (.) (?)



Kedimi çivi gibi suyla yıkadım.

9) Ebru' nun cümlesinde altı çizili deyim cümleye kattığı anlam aşağıdakilerden hangisidir ?

A. kirli

B. sıcak

C. soğuk

“Sarı saçlarını tokalarla tutturmuş.”

10) Yukarıdaki cümlede altı çizili kelime varlığın(ismin) hangi özelliğini belirtiyor?

A) rengini

B) şeklini

C) sayısını

1- Lunaparkta Büşra' yı gördüm.

2- Birbirimizi gördüğümüze çok sevindik.

3- Dün ailemle lunaparka gittik.

4- Ayrılırken ona telefon numaramı verdim.

11) Yukarıdaki cümlelerin anlamlı bir paragraf olması için cümlelerin sıralaması nasıl olmalıdır?

A) 3 – 1 – 2 – 4

B) 3 – 1 – 4 – 2

C) 1 – 3 - 2 – 4

12) Aşağıdaki çocuklardan hangisinin söylediği cümlede hayal ürünü bir ifade vardır?

A)



Ablamla kumsalda yürüyüş yaptık.

B)



Bütün gece yıldızlarla dans ettik.

C)



Babamla balık tutmaya gittik.

13)



Ay, dünyanın
uydusudur.

Elif'in tahtaya yazdığı cümledeki yazım yanlışının benzeri aşağıdakilerden hangisinde vardır?

A) İzmir, ege bölgesinde yer alır.

B) Köpeğim Gofret dün akşam bulundu.

C) Yarın Esra bize gelecek.

1- tüketici

2- bilinçli

3- yapmaz

4- savurganlık

14) Yukarıdaki sözcüklerin doğru ve kurallı cümle oluşturacak şekilde sıralanışı aşağıdakilerden hangisidir ?

A) 2 – 1 – 4 – 3

B) 3 – 2 – 4 – 1

C) 4 – 2 – 1 – 3

15) Evimin anahtarında “Üzerinde ev yapılacak olan boş alan.” anlamına gelen sözcük yazılıdır. Buna göre evimin anahtarı aşağıdakilerden hangisidir?



3.SINIF KONU KAZANIM KAVRAMA TESTİ MATEMATİK



1) Sümeyye'nin parası yukarıda gösterilmiştir. Sümeyye, 49 TL'ye bir çanta ve 26 TL'ye bir şapka alınca geriye kaç TL kalır?

A) 13

B) 39

C) 75

2) 2-7-5 Rakamlarını kullanarak oluşturulacak en büyük ve en küçük sayıların farkı kaçtır?

A) 468

B) 495

C) 477



3) Şekildeki çuvallarda eşit miktarda soğan bulunduğuna göre bir çuvalda kaç kilogram kuru soğan vardır?

A) 14

B) 13

C) 16

4)

64
x 9

127
x 7

26
x 38


Aşağıdakilerden hangisi yukarıdaki işlemlerden birinin sonucu değildir?

A) 576

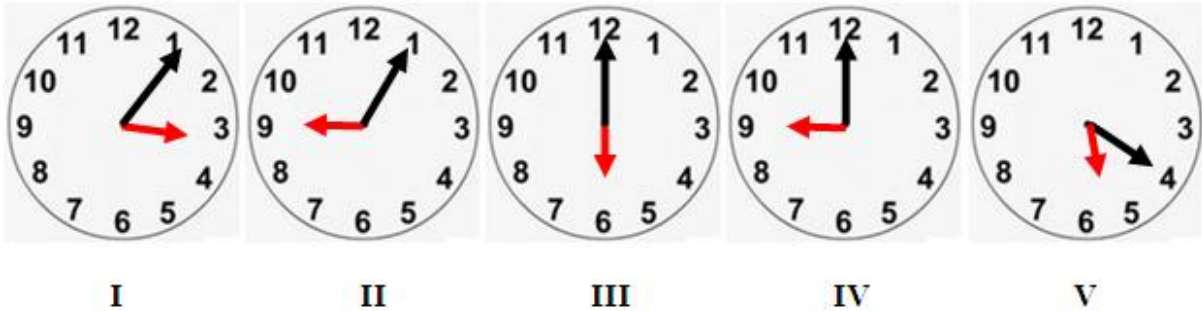
B) 889

C) 978

5) Aşağıdaki şekillerden hangisi üçgen prizma oluşturur?



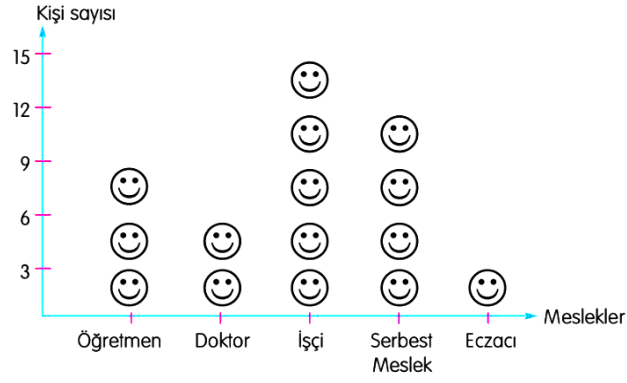
6) Aşağıdaki verilen saatlerin hangilerinde, akrep ve yelkovanın oluşturduğu açı çeşidi aynıdır?



A) I - II

B) III - VI

C) I - V



Her şekil 3 kişiyi göstermektedir

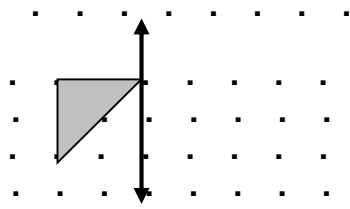
7) Grafiğe göre toplantıya katılan doktorların sayısı eczacılardan kaç fazladır?

A) 3

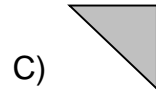
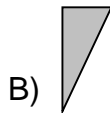
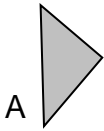
B) 2

C) 1

8)




Yandaki şeklin simetriği hangisidir?



9) Aşağıdaki örüntülerden hangisi diğerlerinden farklıdır?



10)



Yandaki dikdörtgen şeklindeki bahçenin uzun kenarı 25 cm

kısa kenarı 15 cm'dir. Bahçenin kenarına 2 kere tel çekilecek. Toplam kaç cm tel gerekir?

A) 80

B) 160

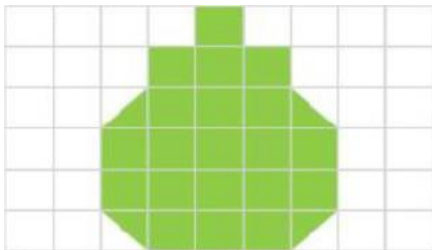
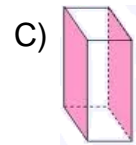
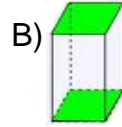
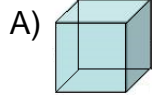
C) 240

11)



Elimde 6 tane dikdörtgensel bölge olan kağıt vardır.

Ayşe'nin elindeki kağıtlarla aşağıdaki şekillerden hangisi elde edilir?



12) Yukarıdaki şeklin alanının 25 birim kare olması için kaç birim kare boyanmalıdır?

A) 3

B) 4

C) 5

13) Bir fabrikada 192 tane bayan işçi çalışmaktadır. Bayan işçilerden 56 fazla erkek işçi çalışmaktadır.


Buna göre fabrikada toplam kaç işçi çalışmaktadır?

A) 248

B) 304

C) 440

14)



Yandaki resme göre matematik kitabının çevresi kaç kalem eder?

A) 8 kalem

B) 10 kalem

C) 12 kalem

15) Benim boyum 137 cm'dir. Annem benden 29 cm uzundur. Babam da annemden 15 cm uzun olduğuna göre babamın boyu kaç cm'dir?

A) 1m 81 cm


B) 1 m 71 cm

C) 1 m 63 cm

3. SINIF KONU KAZANIM KAVRAMA TESTİ

HAYAT BİLGİSİ

1. Aşağıdaki resimlerden hangisi okulların açıldığı mevsimi gösterir?



2.

I. Can, annesinin verdiği siparişleri almak için markete gitti. Bir paket toz şeker aldı. Paketin patlamış olduğunu görünce başka bir paket aldı.

II. Raflar arasından rast gele bir kutu süt aldı.

III. Kasada parasını ödeyip fişini ve para üstünü aldı.



Can'ın alışveriş boyunca yaptığı bilinçsiz davranışı gösteren kaç cümle vardır?

A) 3

B) 2

C) 1

3. Aşağıdakilerden hangisi okulumuzun tarihini araştırırken ulaşabileceğimiz bilgiler arasında yer almaz?

A) Gelecek yıl okula kayıt yaptıracak öğrenci listesi

B) Okulun yapıldığı tarih

C) Bugüne kadar mezun olan öğrenci sayısı





4.

“Tekerlekli sandalyesi ile yeni kayıt olduđu okuluna giden Mehmet’i yeni sınıf arkadaşları samimi, içten bir şekilde karşılamışlardır. Daha sonraları oynadıkları oyunlara Mehmet’i de dahil etmişler, ona oyunlarda yapabileceđi sorumluluklar vermişlerdir.”

Bu anlatılanlara göre Mehmet’in yeni sınıf arkadaşları için söylenenlerden hangisi doğrudur?

- A) Engellilere acıyan kişilerdir.
- B) Farklılıkların doğal olduğunu bilen kişilerdir.
- C) Sınıf olarak çok uslu ve paylaşımcıdırlar.

Ahmet : İlçeleri kaymakam yönetir. Kaymakam ilçede hükümeti temsil eder. Kaymakamlar, ildeki valiye bađlı olarak çalışırlar.

Rabia : İl, ilçe vb. yerleşim yerlerinde yaşayan insanlara su, yol, aydınlatma, temizlik gibi hizmetler valiler tarafından veriler.

Alper : Muhtarlar seçtikleri mahalle veya köyün sorunlarını belirleyip bu sorunları çözüme kavuşturmaya çalışırlar.

5. Yukarıda, yönetim birimleri ile ilgili bilgi veren öğrencilerden hangileri doğru bilgi vermiştir?

- A) Yalnız Rabia
- B) Ahmet ile Rabia
- C) Ahmet ile Alper


6.



Aşağıdakilerden hangisi tarihi
güzelliklerimizden biri değildir?

İSHAKPAŞA SARAYI- AĞRI

A)




FETHİYE ÖLÜ DENİZ- MUĞLA

B)



SAFRANBOLU EVLERİ-KASTAMONU

C)



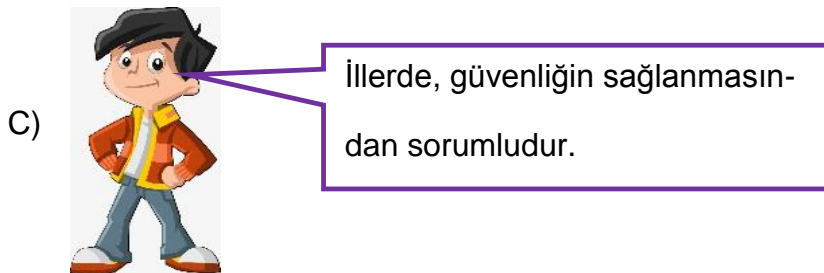
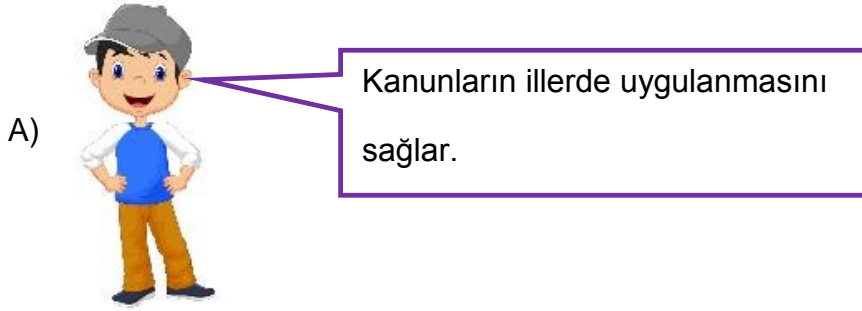


Mustafa Kemal, vatanımızın tehlike içinde olduğunu görünce, içinde bulunulan olumsuz şartlara bakmaksızın, tehlikeye atılmaktan çekinmemiştir.

7. Yukarıda, Mustafa Kemal ATATÜRK' ün hangi kişisel özelliği vurgulanmıştır ?

- A) Barışseverlik B) İleri görüşlülük C) Cesaret

8. Aşağıda, valilerin görev ve sorumlulukları ile ilgili olarak verilen ifadelerden hangisi yanlıştır?



..... İnsanların üyesi olduğu topluma karşı sorumluluğu yoktur.

..... Toplum, bin kişinin bir araya gelmesiyle oluşur.

..... Doğaya zarar vermemek insanların sorumluluğudur.

Yukarıda verilen ifadeleri okuyan Mina, doğru ifadelerin başına ▲ işaretini, yanlış ifadelerin başına ★ işaretini koyuyor.

9. Mina'nın oluşturacağı doğru şekil sıralaması hangi seçenekteki gibi olur?

A) ★ ▲ ▲


B) ▲ ▲ ★

C) ★ ★ ▲

“Bakkal Eyüp Amca her yıl vergisini verir; sokağını, mahallesini korur. Kamu malına zarar verenleri uyarır.”

10. Bakkal Eyüp Amca için aşağıdakilerden hangisi söylenemez?

- A) Başkalarının işine karışır.
- B) Vatansever biridir.
- C) Sorumluluklarını yerine getirir.



11. Atatürk' ün fikir ve düşünceleriyle Türk milletinin esaretten, özgürlüğe nasıl ulaşacağını göstermesi onun hangi kişisel özelliğini yansıtır?

- A) Çok yönlülüğünü
- B) Vatanseverliğini
- C) Yol göstericiliğini

12. Tarihi eserlerle ilgili olarak ařağıdaki çocukların vermiř olduėu bilgilerden hangisi yanlıřtır?

A)



Ülkemizdeki tarihi eserleri korumak hepimizin görevidir.

B)



Pamukkale travertenleri tarihi güzelliklerimizdendir.

C)



Tarihi eserlerin sergilendiėi ve korunduėu yerlere müze denir.

13. “Tatilde Konya, Antalya ve Hatay’a gideceėim. Oralarda müzeleri ziyaret edip bilgiler toplayacaėım. ”

Yukarıdaki ifade ařağıdakilerden hangisiyle daha çok ilgilidir?

- A) Seyahat Özgürlüėü
- B) Yerleřme hürriyeti
- C) Haberleřme hakkı

14. Aşağıdakilerden hangisi cumhuriyetle birlikte kazandığımız hak ve özgürlüklerden biri değildir?

- A) Seçme ve seçilme hakkı
- B) Eğitim ve öğrenim görme hakkı
- C) Bir işte çalışma hakkı



15. Farklı kültürdeki insanlar ile dostluklarımızın önündeki en büyük engel aşağıdakilerden hangisidir ?

- A) Sağlıklı iletişim
- B) Hoşgörü ve iyi niyet
- C) Önyargı

3. SINIF KONU KAZANIM KAVRAMA TESTİ

FEN BİLİMLERİ

1. Dünya'nın katmanlarını içten-dışa doğru sıraladığımızda ilk ve son sırada hangi katman yer alır?

- A) Manto-Kara
- B) Yerkabuğu-Atmosfer
- C) Ağır küre-Atmosfer

2. Aşağıdaki öğrencilerden hangileri canlılar ile ilgili yanlış bilgi vermiştir?

İlker :Tüm canlılar beslenirler.

Kerem :Bitkiler canlı gibi davranan ama canlı olmayan varlıklardır.

Leyla :Canlı çeşitlerinden sadece hayvanlar hareket eder.

- A) İlker – Kerem
- B) Kerem - Leyla
- C) İlker – Leyla

3. "-Ağaçtaki yeşil elma çok ekşiydi." Esra bu cümlede hangi duyularını kullanmıştır?

- A) Tatma-Dokunma
- B) Dokunma-Görme
- C) Görme-Tatma

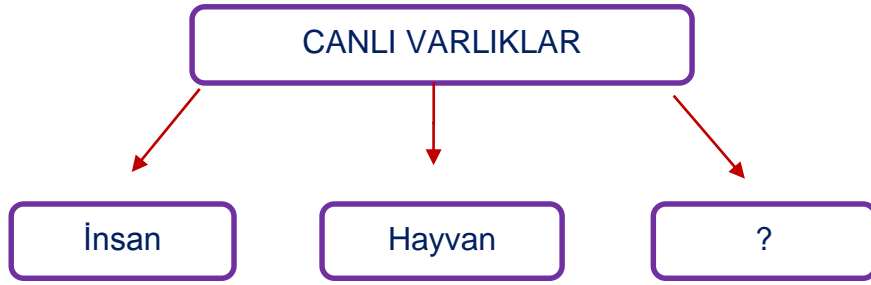
4. Aşağıdakilerden hangisinin çoğalma şekli diğerlerinden farklıdır?



A)

B)

C)



5. Yukarıdaki şemada '?' işareti olan yere aşağıdakilerden hangisi yazılmalıdır?

A) Bitki

B) Toprak

C) Su



I - Ampul

aydınlatma



II - Fırın

ısıtma



III - Televizyon

haberleşme

6. Yukarıdaki elektrikli araçlarından hangilerinin kullanım amaçları doğru olarak verilmiştir?

A) I ve II

B) II ve III

C) I, II ve III

Diğer elektrik kaynaklarına göre enerjisi düşüktür. Doğaya atıldığında çevreye büyük zararı vardır.

7. Aşağıda verilen araçlardan hangisi, yukarıda belirtilen elektrik kaynağı ile çalışır ?

A) Cep telefonu

B) Televizyon kumandası

C) Lamba


8. Hareket hâlindeki cismin hızını artırmak için cisme

Yukarıdaki cümle hangi ifade ile tamamlanırsa doğru bilgi verir?

A) Hareketi yönünde bir kuvvet uygulamak gerekir.

B) Hareketine zıt yönde bir kuvvet uygulamak gerekir.

C) İstediğimiz yönde bir kuvvet uygulamak gerekir.



9. Yukarıda verilen görselden yola çıkarak, aşağıda verilen sonuçlardan hangisine ulaşabiliriz?

A) Piller, canlıların yaşamına zarar verir.

B) Piller, su kaynaklarını kirletir.

C) Pillerin çevreye zararı olmamıştır.

10. Çevre kirliliğinin nedenleri ile ilgili olarak, aşağıdaki öğrencilerden hangisi yanlış örnek vermiştir?

- A)  Ormanlık alanlara yerleşim birimi kurmak.
- B)  Termik santrallerde düşük kalorili kömür kullanmak.
- C)  Cam ve kağıt gibi atıkları geri dönüşüm kutularına atmak.

..... doğal çevreye zarar verir.

11. Yukarıdaki cümlede noktalı yere, aşağıdaki sayılarla eşleştirilen ifadelerden hangileri yazılırsa verilen bilgi doğru olur?

1	Yandıığında kömürden çıkan gazlar
2	Kuşlar için pencere kenarlarına konulan yemler
3	Parklara ve bahçelere dikilen çimler
4	Bilinçsizce kullanılan tarım ilaçları

A) 1 ve 2

B) 2 ve 3

C) 1 ve 4



Elektrik akımını kesmeliyiz.



Arkadaşımızı tutup o yerden uzaklaştırmalıyız.



Hemen bir büyüğe haber vermeliyiz.

12. Yukarıdaki öğrencilerden hangisi elektrik çarpması esnasında yapılması gerekeni doğru söylemiştir?



A)



B)



C)

13. Geri dönüşüm kutularının kullanılmasında aşağıdakilerden hangisi hedeflenmez?

- A) Atık maddelerin yeniden kullanılmasını sağlar.
- B) Çevrenin korunmasına katkıda bulunur.
- C) Doğal kaynakların hızla tükenmesini sağlar.

14. Büyük kara parçaları kıta olarak adlandırılır. Ülkemizin iki kıtada toprakları bulunmaktadır.

Bu kıtalar hangi seçenekte doğru olarak verilmiştir?

- A) Avustralya-Avrupa
- B) Asya- Avrupa
- C) Amerika- Afrika

I. Kabloların üzerine ağır eşyaları koyabiliriz.

II. Bozulan elektrikli aletleri kendimiz tamir edebiliriz.

III. Prizlere sivri cisimler sokmamalıyız.

15. Yukarıdaki ifadelerden hangileri elektriğin güvenli kullanımı ile ilgili doğru bir ifadedir?

- A) I ve III
- B) Yalnız III
- C) II ve III

3. SINIF KONU KAZANIM KAVRAMA TESTİ
İNGİLİZCE



1. I love my

A) family

B) cousin

C) uncle



2. Have you got a doll?

Yes, I

A) have

B) can

C) am



3. --balls are there?

-- Five balls.

A) What

B) How

C) How many



4. Where is the television?

In the

A) bedroom

B) livingroom

C) kitchen



5. How is the in Istanbul?

It' s rainy.

A) swim

B) weather

C) winter

6.

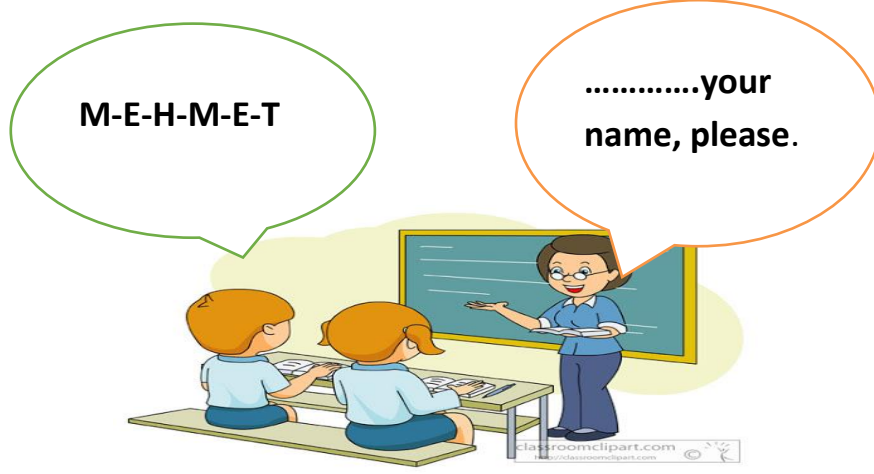


A) rectangle – triangle – square

B) square – triangle – rectangle

C) triangle – square – rectangle

7. Konuşma balonunda boş bırakılan yere uygun düşen seçeneği işaretleyiniz.



A) Spell

B) Take

C) See

8. Resme göre boş bırakılan yere uygun düşen seçeneği işaretleyiniz.









This is İsmetis my.....

A) He/uncle

B) She/grandmother

C) He/grandfather

9. Tabloya göre boş bırakılan yere uygun düşen seçeneği işaretleyiniz.

I likebut I dislike.....

A) frogs / ladybirds

B) dolphins / frogs

C) pigeons / dolphins



10. It is in summer.

A) hot

B) cold

C) snowy