



**İLKOKULLARDA
UZAKTAN EĞİTİM
SÜRECİNDE
KAZANIM
KAVRAMA
ÇALIŞMASI
GENEL
DEĞERLENDİRME**



#sakaryacevrimici
#hayatevesiğar

BU KİTAPÇIKTA

TÜRKÇE 15 SORU

MATEMATİK 15 SORU

SOSYAL BİLGİLER 15 SORU

FEN BİLİMLERİ 15 SORU

İNGİLİZCE 10 SORU

DKAB 10 SORU

YER ALMAKTADIR

Bu çalışmada yer alan TOKİ İlkokulu, Atatürk İlkokulu, Selçukbey İlkokulu, Mehmet Zorlu İlkokulu idareci ve öğretmenlerine teşekkürler...

**SAKARYA MEM
2020**

4.SINIF KONU KAZANIM KAVRAMA TESTİ

TÜRKÇE

BARIŞ MANÇO

“Arkadaşım Eşek”, “Nane Limon Kabuğu” şarkılarını biliyor musunuz? Bilmiyorsanız mutlaka dinlemelisiniz. Barış Manço’yu hatırlatan, herkesin severek dinlediği çok fazla şarkısı vardır. “ Hal Hal, Gülpembe, Domates Biber Patlıcan, Bu Gün Bayram” bunlardan bazılarıdır. Bestelediği şarkılar iki yüzün üstündedir ve birçok dilde yorumlanmıştır.

Barış Manço aynı zamanda televizyon programları da yapmıştır. “Adam Olacak Çocuk” programıyla çocukların kalbine girmiş. Yaptığı “Dönence Dünya Turu” programı ile birçok ülkeye giderek o ülkeleri tanıtmıştır. Bu nedenle “Barış Çelebi” olarak adlandırılmıştır.

Aşağıdaki 1., 2. ve 3. soruları parçaya göre cevaplayınız.

1.Barış Manço’nun yaptığı çocuk programının adı nedir?

- | | |
|----------------------|-----------------------|
| A) Adam Olacak Çocuk | B) Nane Limon Kabuğu |
| C) Çocukların Sesi | D) Dönence Dünya Turu |

2.Barış Manço’ya hangi unvan verilmiştir?

- | | |
|------------------|-----------------|
| A) Evliya Çelebi | B) Barış Çelebi |
| C) Gezen Adam | D) Gezgin Manço |

3. Hangisi Barış Manço’nun şarkılarından değildir?

- | | |
|-------------------|----------------------|
| A) Bu Gün Bayram | B) Nane Limon Kabuğu |
| C) Arkadaşım Eşek | D) Uçan Balon |

4. “ Müge ödevlerini her gün düzenli yapardı“

Yukarıdaki cümleye göre hangi sorunun yanıtı yoktur ?

- A) Kim ? B) Nasıl ? C) Nerede ? D) Ne zaman ?

5. “Birleşik kelimeler, hecelerine ayrılırken tek bir kelime gibi düşünülerek ayrılır.” Bu kuralı bilen öğrenciler “**yayınevi**” kelimesini hecelerine ayırmışlardır.

Yukarıdaki açıklamaya göre hangi öğrenci bu kelimeyi doğru olarak hecelerine ayırmıştır?

- A) Ayşe : yay – ın – e – vi B) Ahmet : ya – yı – ne – vi
C) Ela : yay – ın – evi D) Zeynep : ya – yın – e – vi

6. Sözcükler gerçek ve mecaz anlamlarda kullanılabilirler. Aşağıdaki cümlelerin hangisinde “söndü” kelimesi mecaz anlamda kullanılmıştır?

- A) Mangaldaki ateş söndü. B) Rüzgardan mum söndü.
C) Kaybedince bütün umudu söndü. D) Gündüz açık ışıkları söndür.

7 . Aşağıdaki cümlelerin hangisinde kısaltmalara gelen eklerin yazımı yanlıştır?

- A) 23 Nisanda TBMM’ne gideceğiz. B)Okulumuz MEB’e bağlıdır.
C) THY’nin uçakları çok yeni. D) Annem SEDAŞ’tan emekli oldu.

8. Aşağıdakilerden hangisi herkese göre aynı olan (nesnel) bir ifadedir?

- A) Sonbaharda dökülen yaprakları izlemek beni hüzünlendiriyor.
- B) İlkbahar mevsiminde havalar ısınmaya başlar, doğa canlanır.
- C) Kış mevsiminde kartopu oymamak çok eğlencelidir.
- D) Yaz mevsiminin en güzel yanı denize girmek ve güneşlenmektir.

9. Aşağıdaki deyimleri, anlamlarıyla verilen tabloya yazarak eşleştiriniz .

- a) Ateş püskürmek
 - b) Kafa tutmak
 - c) Diline dolamak
 - d) Kulak kesilmek
 - e) Kafadan atmak
- 1. düşünmeden konuşmak
 - 2. karşı gelmek, direnmek
 - 3. dikkatli dinlemek
 - 4. bir şeyi sürekli söylemek
 - 5. çok öfkelenmek

a	b	c	d	e

10. Pekiştirme sözcükleri ile ilgili kurallar vardır. Aşağıdaki cümlelerin hangisinde bu kural ile ilgili bir hata yapılmıştır?

- A) Bayramda yepyeni ayakkabı aldık.
- B) Baharda çevremiz yemyeşil oldu.
- C) Evimiz tertemiz oldu.
- D) Korkudan kas katı kesildi.

Sen ne güzel bulursun
Gezsen Anadolu'yu.
Dertlerden kurtulursun
Gezsen Anadolu'yu.
Billur ırmakları var,
Buzdan kaynakları var.
Ne hoş toprakları var
Gezsen Anadolu'yu.

11.Yukarıdaki şiirin konusu aşağıdakilerden hangisidir?

- A) Anadolu'nun toprakları B) Anadolu'nun kaynakları
C) Anadolu'nun güzellikleri D) Anadolu'nun baharları

12. Aşağıdaki cümlelerin hangisinde yazım yanlışı yoktur?

- A) Batı cephesinde Yunanlılarlamı savaştık?
B) Minik köpeğime karabaş adını koydum.
C)“Halikarnas Balıkçısı” kitabını çok beğendim.
D) Derste Feyzanın yanına oturdum.

13. () Aysel Teyze bugün geldi mi()

()Hayır () hiç uğramadı.

Yukarıdaki diyalogda() içlerine sırasıyla hangi noktalama işaretleri konmalıdır?

- A) (-) (?) (-) (!) B) (-) (?) (-) (,)
C) (“) (?) (-) (“) D)(“) (“) (!) (:)

“Annem sofrayı hazırlar. Ben kardeşimle ilgilenirim. Babam evin tamir işlerini yapar. Ablam bahçedeki çiçekleri sular. Özetle.....”



14.

Yukarıdaki paragraf aşağıdakilerden hangisi ile devam edebilir?

- A) Evde herkes üzerine düşeni yapar
C) Evde her şeyi annem yapar.

- B) Evde ben anneme yardım ederim.
D) Evde tamir işlerini ablam yapar.

15. Aşağıdaki cümlelerin hangisinde karşılaştırma yapılmaktadır?

- A)Ahmet ve Selda çok iyi arkadaşlardır.
B) Ahmet ile Selda'nın yeni bir arkadaşları oldu.
C)Ahmet, Selda'dan gitar çalmayı öğreniyor.
D) Ahmet,Selda kadar iyi gitar çalamıyor.

3. En yakın onluğa yuvarlandığında 2010 olan en küçük ve en büyük sayının toplamı kaç olur?

A) 4003

B) 4000

C) 4019

D) 4024

4.

8	0	3	1	6	5
---	---	---	---	---	---

 , verilen rakamları birer kez kullanarak yazılacak altı basamaklı en büyük sayı ile en küçük sayının toplamı kaçtır?

A) 968878

B) 868698

C) 978878

D) 986878

5. Aşağıdaki sayıların arasına gelmesi gereken işaretleri yazınız.

(< = küçüktür) (> = büyüktür)
a) 5100 5050
b) 23896 23747
c) 82005 82050
d) 105105 104105
e) 95671 956701

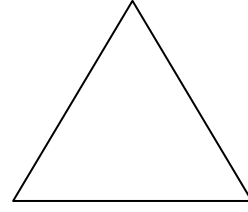
6. Bir günde 35 dakika kitap okuyan Okan 2 haftada kaç saat ve kaç dakika kitap okur?

A) 7 saat 10 dakika

B) 8 saat 10 dakika

C) 9 saat

D) 8 saat 50 dakika



Çevresi =?

7. Uzun kenarı 35 cm olan dikdörtgen şeklindeki masanın çevresi 124 cm' dir. Bir kenar uzunluğu,masanın bir kısa kenar uzunluğuna eşit olan eşkenar üçgenin çevresi kaç cm'dir?

A) 54 cm

B) 27 cm

C) 70 cm

D) 81 cm

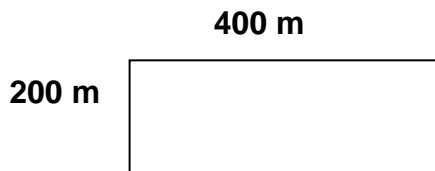
8. Bir araç 150 kilometrelik bir yolun $\frac{3}{5}$ 'ünü gittikten sonra mola veriyor. Bu aracın gitmesi gereken kaç kilometre yolu kalmıştır?

A) 60 km

B) 30 km

C) 90 km

D) 120 km



9. Kısa kenarı 200 m, uzun kenarı ise 400 m olan dikdörtgen şeklindeki koşu parkurunda 5 tur koşan bir koşucu toplam kaç kilometre koşmuştur?

A) 1200 km

B) 12 km

C) 6 km

D) 6000 km

10. 23 Nisan Ulusal Egemenlik ve Çocuk Bayramı'na katılan 169 öğrenciden; 112'si 4'erli grup, 57'si ise 3'erli grup oluşturdu. Öğrencilerin oluşturduğu grup sayısı kaçtır?

A) 28 grup

B) 47 grup

C) 19 grup

D) 32 grup



11. Yukarıda verilen kısa kenarı 7 birim, uzun kenarı 12 birim olan dikdörtgenin alanı kaç birim karedir?

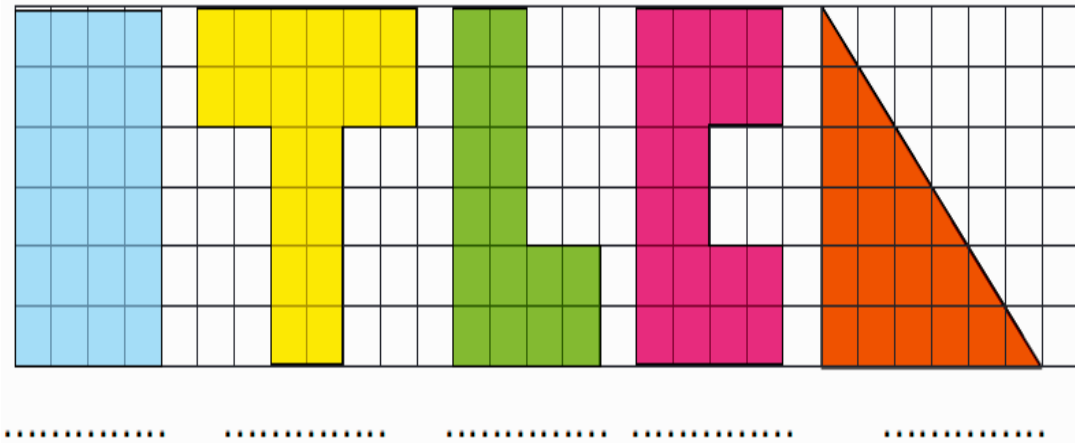
A) 38 birim kare

B) 19 birim kare

C) 144 birim kare

D) 84 birim kare

12. Aşağıdaki şekillerin kaç birim kare olduklarını altlarına yazınız.



13. Bir çıkarma işleminde fark 18'dir. Eksilen 8 artırılırsa yeni fark kaç olur?

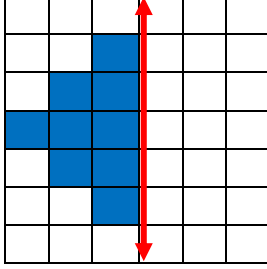
A) 26

B) 16

C) 10

D) 24

14.



Yandaki şeklin simetrisi tamamlandığında oluşan şeklin alanı kaç birim karedir?

A) 9 birim kare

B) 19 birim kare

C) 18 birim kare

D) 30 birim kare

Kenar uzunlukları	Üçgenin çeşidi
7 cm, 5 cm, 5 cm	
8 cm, 8 cm, 8 cm	
12 cm, 5cm, 9 cm	

15. Yukarıdaki tabloda kenar uzunlukları verilen üçgen türlerinin sıralaması hangisinde doğru verilmiştir?

A) Eşkenar üçgen, Çeşitkenar üçgen, İkizkenar üçgen

B) İkizkenar üçgen, Eşkenar üçgen, Çeşitkenar üçgen

C) İkizkenar üçgen, Çeşitkenar üçgen, Eşkenar üçgen

D) Eşkenar üçgen, İkizkenar üçgen, Çeşitkenar üçgen

4.SINIF KONU KAZANIM KAVRAMA TESTİ
SOSYAL BİLGİLER

1. Aşağıdaki cümlelerden doğru olan ifadelerin başına "D", yanlış olan ifadelerin başına "Y" harfi koyunuz.

(.....)Türkiye Cumhuriyeti, milli egemenlik ilkesine dayanan bir devlettir.

(.....) Derslere zamanında girmek ailedeki sorumluluklarımızdan biridir.

(.....)Çanakkale Savaşı, milli mücadele döneminde kazandığımız bir savaştır.

(.....) Nahcivan, Azerbaycan'a bağlı özerk bir cumhuriyettir.

(.....)Televizyon ve bilgisayar başında fazla zaman geçirmek sosyalleşmeyi azaltır.

2. Aşağıda verilen cümlelerdeki boşluklara uygun olan sözcüğü yerleştiriniz.

Ruska	kronoloji	Suriye
sorumluluk	Fransa	egemenlik

* ülkemizin komşu ülkelerinden biridir.

* Yaşanmış olayların tarih sırasına göre düzenlenmesinedenir.

* Finlandiya'da gökyüzünün geceleri de güneşli olduğu dönemedenir.

* Öğrencilerin katıldıkları gruplardaüstlenmeleri gerekir.

* TBMM'nin açılmasıylamilleğe geçmiştir.



3. Yukarıda verilen görsellerin kronolojik sıralanışı aşağıdaki seçeneklerden hangisinde doğru verilmiştir?

- A) III,I,IV,II B) III,II,I,IV C) IV,I,II,III D) I,II,III,IV

4. Atatürk'ün doğduğu Selanik şehri bugün hangi ülke sınırları içerisinde?

- A) Yunanistan B) Bulgaristan C) Gürcistan D) Türkmenistan

5. Ali, dedesinin oynadığı topacı ile kendi topacını inceliyordu. Eski topacı hareket ettirmenin çok zor olduğunu fark etti. Oysa kendi topacını iki parmağı ile tutarak çevirebiliyordu.

Ali, topaç oyuncağının zaman içindeki durumuna göre aşağıdaki yargılardan hangisine ulaşır?

- A) Değişmeden günümüze kadar gelmiştir.
B) Eski topaçların kullanımı daha pratiktir.
C) Teknolojik gelişmelerden etkilenmiştir.
D) Yeni topaçlar doğal malzemeden yapılır.



Geçmiş



Şimdi

I. Her çocuğun renk,din,dil,ırk ayrımı gözetmeksizin Çocuk Hakları Sözleşmesi'ndeki haklardan yararlanma hakkı var mı ?

II. Her çocuk düşüncesini özgürce açıklama hakkına sahip midir ?

III. Her çocuk farklı şekilde mi muamele görmelidir ?

6. Yukarıdaki soruların hepsini " EVET" diye yanıtlayan Cenk için aşağıdakilerden hangisi söylenebilir?

A) Yalnız I. soruyu doğru yanıtlamıştır.

B) II. ve III. soruları doğru yanıtlamıştır.

C) Yalnız II. soruyu doğru yanıtlamıştır.

D) I ve II. soruları doğru yanıtlamıştır.

7.Aşağıdaki devletlerden hangisi Türk Cumhuriyeti Devletlerinden değildir?

A)  Azerbaycan

B)  KKTC

C)  Özbekistan

D)  Yunanistan

8. I. Pusula II. Güneş III. Karınca yuvaları IV. Bulutlar

Yukarıdakilerden hangisi yön bulmak için kullanılan yöntemlerden biri değildir?

A) IV

B) III

C) II

D) I

9. I. Fotoğraf albümü
II. Mektuplar
III. Hikaye kitapları
IV. Diplomalar

Aile tarihini arařtırmak isteyen Ayőe, yukarıda verilen bilgilerin hangilerinden yararlanabilir?

- A) I,III,IV B) I,II,IV C)I,II,III,IV D)I,II,III

10. Aőağıdakilerden hangisi Türkiye Cumhuriyeti Kimlik Kartı'nın ön yüzünde yer alan bilgilerden biri deęildir?

- A) T.C. Kimlik numarası B) Kimlik sahibinin adı
C) Kimlik sahibinin imza D) ip

11. Teknolojik geliőmelerle ilgili olarak aőağıda verilen ifadelerden hangisi yanlıőtır?

- A) Teknolojik ürünler ulaşımı kolaylaőtırmıőtır.
B) Teknolojik ürünler farklı alanlarda kullanılır.
C) Teknolojik ürünlerin kullanımı doğaya zarar vermez.
D) Teknolojik ürünler hızla deęiőerek geliőmektedir.

12. “23 Nisan 1920’de ülkenin her yerinden seçilen milletvekilleri Ankara’da bir araya geldi. TBMM’nin açılışı yapıldı.” **TBMM’nin açılması ile aşağıdaki ilkelerden hangisi gerçekleştirilmiştir?**

- A) Hoşgörü B) Vatanseverlik C) Milli barış D) Milli egemenlik



13. **Aşağıdakilerden hangisi ülkemizin komşularından değildir?**

- A) Kazakistan B)Bulgaristan C) Yunanistan D) Gürcistan

14. “akıllı tahta – telefon – otomobil- stetoskop”

Yukarıda verilen araç-gereçlerin kullanım alanları sırasıyla hangi seçenektir?

- A) sağlık – iletişim – ulaşım – eğitim B) eğitim – iletişim – sağlık – ulaşım
C) eğitim – iletişim – ulaşım – sağlık D) sağlık – ulaşım – iletişim – eğitim

15. “İhtiyaçlarımız, temel ihtiyaçlar ve sosyal ihtiyaçlar olarak ikiye ayrılır.”

Aşağıdakilerden hangisi sosyal ihtiyaçlarımızdandır?

- A) beslenmek B) eğlenmek C) giyinmek D) barınmak

4.SINIF KONU KAZANIM KAVRAMA TESTİ

FEN BİLİMLERİ

1. Aşağıdaki cümlelerden doğru olanların başına “D”, yanlış olanların başına ise “Y” harfi yazınız.

(.....) Proteinler, vücudumuzda yapıcı ve onarıcı olarak görev yaparlar.






(.....) Işık kirliliği deniz kaplumbağası yavrularına yönlerini kaybettirir.

(.....) Mıknatısın doğu ve batı olmak üzere iki kutbu vardır.

(.....) Dengeli ve düzenli beslenme hastalıklara neden olur.

(.....) Elektrik, doğal gaz, maden ve petrol gibi kaynaklar tükenebilir kaynaklardır.

2.Aşağıda verilen kavramları karşılarında bulunan açıklamalarla eşleştiriniz.

1	 ampul	a	Devreyi açıp kapamaya yarar.
2	 pil	b	Elektrik enerjisini devre elemanlarına aktarır.
3	 anahtar	c	Elektrik enerjisini ışık enerjisine çevirir.
4	 kablo	d	Ampulün takıldığı devre elemanıdır.
5	 duy	e	Devredeki enerji kaynağıdır.

1	2	3	4	5

3. Aşağıdaki ifadelerden hangisi yanlıştır?

- A) Su, tükenebilir bir kaynağımızdır.
- B) Kâğıt ve cam geri dönüştürülebilir.
- C) Işık yayarak çevresini aydınlatan varlıklara ses kaynağı denir.
- D) Mikrofon ve megafon sesin şiddetini arttıran araçlardır.

4. Aşağıdaki aydınlatma yöntemlerinden hangisi doğrudur?



A)



B)



C)



D)

5. Aşağıdaki boşlukları verilen kelimelerden uygun olanları ile tamamlayınız.

kuvvet	pil	çevre	İşitme kaybına	eleme
--------	-----	-------	----------------	-------

- * Devrenin elektrik enerjisini sağlayan parçasına denir.
- * Sürekli olarak gürültülü ortamlarda bulunmakyol açar.
- * Canlı ve cansız varlıkların bir arada bulunduğu ortamadenir.
- * Cisimlere şekil vermek için uygulamak gerekir.
- * Tanecikleri farklı boyutlarda olan katı maddeleri ayırmak içinyöntemi kullanılır.

6. Aşağıdaki ifadelerden hangisi yanlıştır?

- A) Yerkabuğundaki kayaçlar bir ya da birden fazla mineralden oluşur.
B) Eski zamanlardan kalan eşya kalıntıları fosil olarak nitelendirilir.
C) Ekonomik değeri olan kayaçlara maden denir.
D) Hayvanların sert kısımları fosilleşir.



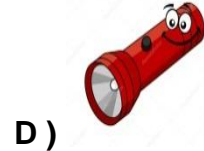


7. Yukarıdaki devrede ampulün ışık vermemesinin nedeni nedir?

- A) Ampul yoktur. B) Kablo yoktur.
C) Anahtar kapalıdır. D) Anahtar açıktır.

8. Güneş'in gün içerisinde farklı yerlerde gözlemlenmesi aşağıdakilerden hangisinin sonucudur?

- A) Dünya'nın Güneş etrafında dönmesi. B) Dünya'nın kendi etrafında dönmesi
C) Güneş'in Dünya etrafında dönmesi. D) Güneş'in kendi etrafında dönmesi.

9. Aşağıdakilerden hangisi şehir elektriği ile çalışmaktadır?



10. Sıvılar belirli bir şekle sahip değildirler. Bu yüzden_____

Yukarıdaki cümlenin devamı ne olmalıdır?

- A) Sıvılar ısıtıldığında buharlaşır.
- B) Dolaba konulduğunda su buharı donar.
- C) Sıvılar konulduğu kabın şeklini alır.
- D) Su saydam bir maddedir.

11. Basit bir elektrik devresinde kullandığımız anahtarla aşağıdakilerden hangisi aynı görevi yapar?



Yumurta

lahana

ekmek

ceviz

12. Yukarıda verilen besinler; karbonhidrat, protein ve yağ olarak gruplandırıldığında hangi besin dışarıda kalır?

A) Ekmek

B) Ceviz

C) Lahana

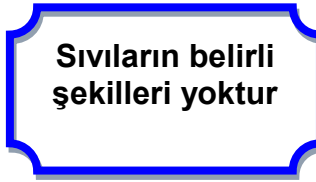
D) Yumurta

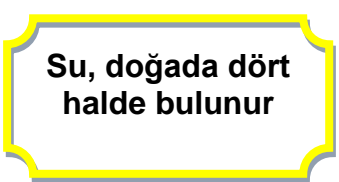
13. Besin içerikleriyle ilgili olarak aşağıda verilenlerden hangisi doğrudur?

- A) Karbonhidratların öncelikli görevleri hücreleri yenilemektir.
- B) Proteinler vücudumuzun enerji kaynağıdır.
- C) Baklava yiyenler bol miktarda vitamin alır.
- D) Su ve mineraller bütün besinlerde bulunur.

14. Maddenin halleri ile ilgili aşağıda verilen bilgi kartlarından hangisi doğrudur?

A)  Gazlar sıkıştırılmazlar

B)  Sıvıların belirli şekilleri yoktur

C)  Su, doğada dört halde bulunur

D)  Buz, maddenin sıvı halidir

15. Aşağıdaki durumlardan hangisinde cisim yavaşlar?

- A) Hareket eden cisme, hareketinin zıt yönünde kuvvet uygulandığında.
- B) Duran bir cisme itme kuvveti uygulandığında.
- C) Hareket eden cisme, hareket yönünde çekme kuvveti uygulandığında.
- D) Duran cisme çekme kuvveti uygulandığında.

4.SINIF KONU KAZANIM KAVRAMA TESTİ

İNGİLİZCE

Countries

- Pakistan
- Iran
- Egypt
-

1. Tablodaki boşluğa aşağıda verilenlerden hangisi gelmelidir?

- A) Italian
- B) German
- C) American
- D) Turkey



2. "I like"

- A) playing chess
- B) dancing
- C) reading a book
- D) watching TV



3. "I every morning."

- A) have breakfast
- B) have lunch
- C) have dinner
- D) have a shower



4. "She has got hair."

- A) straight
- B) wavy
- C) curly
- D) beard

* It is hot and sunny .

* I need sunglasses and a hat.

5. What season is it?

A) autumn

B) summer

C) winter

D) spring



6. "I can" ."

A) fly a kite


B) ride a horse

C) drive a car

D) take pictures

7. A: Where is the cat?

B: It is the table.



Resme göre boşluğa ne gelmelidir?

A) behind

B) in front of

C) under

D) on

8. A:

B: Would you like a sandwich?

- A) I'm thirsty.
- B) I'm funny.
- C) I'm happy.
- D) I'm hungry.

9. Verilen resme göre boş bırakılan yere uygun düşen seçeneği işaretleyiniz.

Aleyna: Give me the pencil ,please.

Beril:

Aleyna: Give me the pencil, please.



- A) Say that again,please.
- B) Here you are.
- C) Sorry,not right now.
- D)Thank you.

10. What does a farmer like?

- A) He likes helping people.
- B) He likes examining patients.
- C) He likes growing vegetables.
- D) He likes flying planes.



4. SINIF KONU KAZANIM KAVRAMA TESTİ DİN KÜLTÜRÜ VE AHLÂK BİLGİSİ

1. İslam dinine göre her iyi ve güzel bir işe başlarken besmele çekilerek Allah'ın adıyla başlanır.

Aşağıdakilerden hangisi “Bismillahirrahmanirrahim’in” en doğru anlamıdır?

- A)“Allah’ım beni bağışla!”
- B)Allah’tan başka ilah yoktur.
- C)Rahman ve Rahim olan Allah’ın adıyla başlarım.
- D) Allah’ım, beni ve bütün Müslümanları koru!

2. Toplumda uymamız gereken bazı ahlak kuralları vardır. Bu kurallara uyan kişilere “ahlaklı”, bu kurallara uymayan kişilere de “ahlaksız” denir. İslam dini güzel ahlaka çok önem vermiş ve ahlaklı insanları övmüştür.

Güzel ahlak sahibi insanlarda aşağıdaki özelliklerden hangisi bulunmaz?

- A) İnsanlarla alay etmek
- B) Hiç kimsenin kusurunu araştırmamak.
- C) İnsanlara hoşgörüyle yaklaşmak
- D) Doğru sözlü ve güvenilir olmak

- I. Kelime-i Şehadet getirmek
- II. Peygamberlere inanmak
- III. Oruç tutmak
- IV. Hacca gitmek
- V. Ahiret'e inanmak

3. Yukarıda verilenlerden hangileri İslam'ın şartlarındandır?

- A) I,III,IV B) I, II, V C) II, V D) III,IV

4. Kur'an-ı Kerim'in her bir cümlesine.....denir.

Yukarıdaki boşluğa aşağıdakilerden hangisi gelmelidir?

- A) Sure B) Ayet C) Cüz D) Durak

5. Kelim anlamı açan, açılış demektir.

Kur'an-ı Kerim'in ilk suresidir.

Namazların her rekatında okunur.

Mekke döneminde indirilmiştir, yedi ayettir.

Yukarıda hakkında bilgi verilen sure aşağıdakilerden hangisidir?

- A) Subhaneke B) Alak C) Fatıha D) Kevser

6. "Peygamber, Rabbi tarafından kendisine indirilene iman etti, müminler de (iman ettiler). Her biri Allah'a, meleklerine, kitaplarına, peygamberlerine iman ettiler. 'Allah'ın peygamberlerinden hiçbiri arasında ayırım yapmayız. İştittik, itaat ettik. Ey Rabbimiz, affına sığındık! Dönüş sanadır.' dediler." (Bakara, 285.)

Yukarıdaki ayette İslam'ın inanç esaslarının hangisinden söz edilmemiştir?

- | | |
|------------------------|--------------------|
| A) Kaza ve kadere iman | B) Allah'a iman |
| C) Peygamberlere iman | D) Meleklerle iman |

7. Mekkelilerin İslam'a tepkileri devam edince Peygamberimiz (s.a.v.), Mekke yakınlarındaki Taif'e gitti ve buranın halkını İslam'a davet etti. Ancak Taifliler, Hz. Peygamber'in (s.a.v.) davetini kabul etmediler ve ona kötü davrandılar. İçlerinden bazı kimselere onu taşlattılar. Ayakları kanlar içinde kalan Hz. Peygamber (s.a.v.) Mekke'ye döndü. Ancak bu üzücü durumu yaşamasına rağmen Peygamberimiz (s.a.v.) Taiflilere beddua etmedi. Onların doğru yolu bulması için dua etti.

Bu durum O'nun hangi yönüne işaret etmektedir?

- | | |
|---------------------|----------------------|
| A) Adaletli olması | B) Çalışkan olması |
| C) Cesaretli olması | D) Merhametli olması |

8. Aşağıdaki ifadelerden hangisi yanlıştır?

- A) Allah'a inanıp putlara da tapanlara müşrik denir.
- B) Hz. İbrahim'in dinine inananlara Hanif denir.
- C) Allah'ı özellikleriyle bir kabul etmeye tevhid denir.
- D) Kur'an-ı Kerim'i peygamberimiz yazmıştır.

9. Aşağıdakilerden hangisi manevi temizliğe örnek bir davranıştır?

- A) Yemekten önce ve sonra elleri yıkamak.
- B) Elbiselerimizin temiz, düzenli olmasına özen göstermek
- C) Dürüst ve güvenilir olmak
- D) Dişlerimizi günde en az iki kez fırçalamak



10. Abdest alırken yukarıdaki resimden sonra aşağıdakilerden hangisi yapılır?

